

CISD Grade 2 Math Unit 08 SPANISH

Some questions (c) 2012 by CSCOPE.

**1** Mi familia fue al parque este fin de semana. Había 26 niñas y 17 niños en el parque. ¿Cuántos niños y niñas había en total en el parque?

- A** 9 niños y niñas
- B** 33 niños y niñas
- C** 43 niños y niñas

**2** ¿Cuál de las siguientes oraciones numéricas es igual a  $42 + 36$ ?

- A**

$40 + 2$	$+$	$30 + 6$
----------	-----	----------
- B**

$4 + 2$	$+$	$3 + 6$
---------	-----	---------
- C**

$4 + 20$	$+$	$3 + 60$
----------	-----	----------

**3** El equipo de béisbol de Ray ha jugado 16 juegos esta temporada. Ganaron 9 juegos. ¿Cuántos juegos NO ganaron?

- A** 7 juegos
- B** 12 juegos
- C** 25 juegos

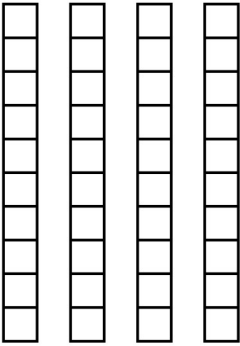
- 4 Jim tiene 24 años de edad. Mary es 7 años mayor que él. ¿Cuántos años tiene Mary? Muestra la edad de Mary usando la menor cantidad de bloques de base diez para justificar tu respuesta.

Decenas	Unidades

- 5 Marcus tiene 21 crayones. Mandy tiene 17 crayones más que Marcus. ¿Cuántos crayones tiene Mandy?

- A 4 crayones
- B 28 crayones
- C 38 crayones

- 6 Sabrina juntó 40 latas para ayudar con el nuevo programa de reciclaje. Su hermana Taylor juntó 12 latas más. Usa la menor cantidad de bloques de base diez para hacer un dibujo que muestre el número de latas que juntó Taylor.

Sabrina	Taylor
	

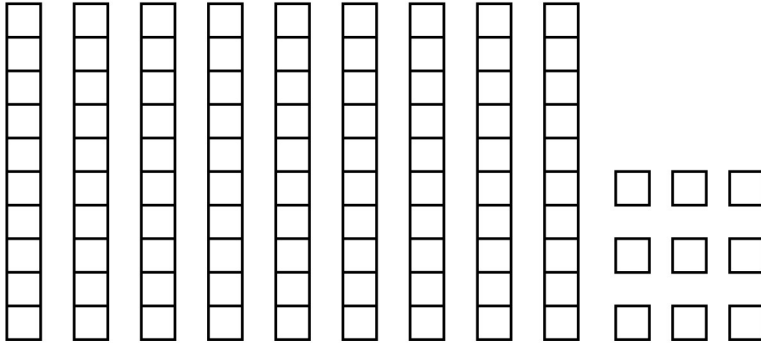

- 7 Sandy y Jan ponen una **x** debajo de su nombre en la tabla por cada quehacer que hacen en casa.

Sandy	Jan
<b>x x x x x</b>	<b>x x x x x</b>
<b>x x x x x</b>	<b>x x x x</b>
<b>x x x x x</b>	

¿Cuántos quehaceres más hizo Sandy que Jan?

- A** 4 quehaceres
- B** 6 quehaceres
- C** 8 quehaceres

8



¿Cuál de las siguientes respuestas representa el mismo número que el modelo?

- A** 2 centenas 8 decenas 9 unidades
- B** 3 centenas 9 decenas 8 unidades
- C** 3 centenas 9 decenas 9 unidades

- 9 Tyler tiene 62 tarjetas para intercambiar. Su hermano menor tiene 46 tarjetas para intercambiar. ¿Cuántas tarjetas más tiene Tyler que su hermano?

0	0
1	1
2	2
3	3
4	4
5	5
6	6
7	7
8	8
9	9

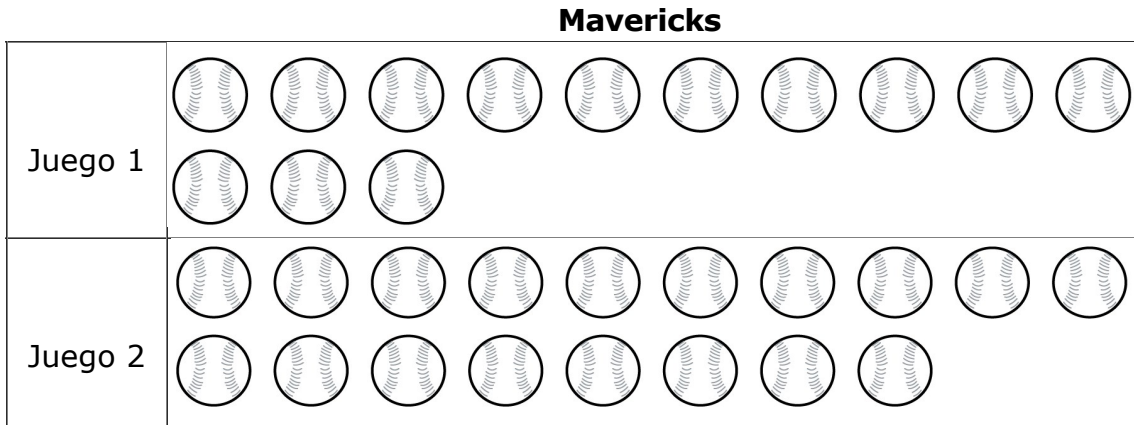
Record your answer and fill in the bubbles on your answer document. Be sure to use the correct place value.

---

--	--



- 10** Durante la temporada de béisbol, el equipo de la liga chica *Mavericks* hizo 13 anotaciones en el juego 1. Durante el juego 2, anotaron 18 veces.



¿Cuántas veces anotaron los *Mavericks* en los dos juegos?

- A** 5
- B** 21
- C** 31

- 11 Observa el ejemplo del cuadro 1. Completa la oración numérica en el cuadro 2 para representar los modelos de base diez.

**Cuadro 1**

20 + 7 = 27

**Cuadro 2**

\_\_\_\_\_ + \_\_\_\_\_ = \_\_\_\_\_